

積分法

1

(1) 不定積分 $\int \frac{(x^2 + 1)^2}{x^3} dx$ を求めよ。

(2) 次の不定積分を求めよ。

① $\int (\cos x - \sin x) dx$

② $\int \frac{(\cos x - 1)(\cos^2 x + \cos x + 1)}{\cos^2 x} dx$

(3) 不定積分 $\int (2^x + e^x) dx$ を求めよ。

解答

C は積分定数とする。

$$\begin{aligned}
 (1) \quad \int \frac{(x^2 + 1)^2}{x^3} dx &= \int \frac{x^4 + 2x^2 + 1}{x^3} dx = \int \left(x + \frac{2}{x} + \frac{1}{x^3} \right) dx = \int (x^1 + 2x^{-1} + x^{-3}) dx \\
 &= \frac{1}{1+1} x^{1+1} + 2 \log|x| + \frac{1}{-3+1} x^{-3+1} + C = \frac{1}{2} x^2 + 2 \log|x| - \frac{1}{2} x^{-2} + C \\
 &= \frac{1}{2} x^2 + 2 \log|x| - \frac{1}{2x^2} + C
 \end{aligned}$$

(2) ① $\int (\cos x - \sin x) dx = \mathbf{\sin x + \cos x + C}$

② $\int \frac{(\cos x - 1)(\cos^2 x + \cos x + 1)}{\cos^2 x} dx = \int \frac{\cos^3 x - 1}{\cos^2 x} dx = \int \left(\cos x - \frac{1}{\cos^2 x} \right) dx$
 $= \mathbf{\sin x - \tan x + C}$

(3) $\int (2^x + e^x) dx = \frac{2^x}{\log 2} + e^x + C$

2

次の不定積分を求めよ。

(1) ① $\int \sqrt[4]{2x-3} dx$

② $\int \cos(5x+1) dx$

(2) ① $\int \frac{x^2}{(x-2)^2} dx$

② $\int x\sqrt{x+2} dx$

(3) ① $\int \frac{e^x}{(e^x-3)^2} dx$

② $\int \cos^2 x \sin x dx$

③ $\int \frac{3x^2}{\sqrt[3]{x^3+2}} dx$

(4) ① $\int \frac{3x^2}{x^3+2} dx$

② $\int \frac{1}{\tan x} dx$

解答

Cは積分定数とする。

(1) ① $2x-3=t$ とおくと, $dx = \frac{1}{2} dt$ より

$$\int \sqrt[4]{2x-3} dx = \int \sqrt[4]{t} \cdot \frac{1}{2} dt = \frac{1}{2} \int t^{\frac{1}{4}} dt = \frac{1}{2} \cdot \frac{1}{\frac{1}{4}+1} t^{\frac{1}{4}+1} + C = \frac{2}{5} t^{\frac{5}{4}} + C = \frac{2}{5} (2x-3)^{\frac{5}{4}} \sqrt[4]{2x-3} + C$$

② $5x+1=t$ とおくと, $dx = \frac{1}{5} dt$ より

$$\int \cos(5x+1) dx = \int \cos t \cdot \frac{1}{5} dt = \frac{1}{5} \int \cos t dt = \frac{1}{5} \sin t + C = \frac{1}{5} \sin(5x+1) + C$$

(2) ① $x-2=t$ とおくと, $x=t+2$, $dx=dt$ より

$$\int \frac{x^2}{(x-2)^2} dx = \int \frac{(t+2)^2}{t^2} dt = \int \left(1 + \frac{4}{t} + \frac{4}{t^2}\right) dt = t + 4 \log|t| + \frac{4}{-2+1} t^{-2+1} + C$$

$$= t + 4 \log|t| - \frac{4}{t} + C = x - 2 + 4 \log|x-2| - \frac{4}{x-2} + C$$

$$= x + 4 \log|x-2| - \frac{4}{x-2} + C$$

② $x+2=t$ とおくと, $x=t-2$, $dx=dt$ より

$$\int x\sqrt{x+2} dx = \int (t-2)\sqrt{t} dt = \int \left(t^{\frac{3}{2}} - 2t^{\frac{1}{2}}\right) dt = \frac{1}{\frac{3}{2}+1} t^{\frac{3}{2}+1} - 2 \cdot \frac{1}{\frac{1}{2}+1} t^{\frac{1}{2}+1} + C$$

$$= \frac{2}{5} t^{\frac{5}{2}} - \frac{4}{3} t^{\frac{3}{2}} + C = \frac{2}{15} t^{\frac{3}{2}} (3t-10) + C = \frac{2}{15} (x+2)(3x-4)\sqrt{x+2} + C$$

別解 $\sqrt{x+2}=t$ とおくと $x+2=t^2$ から, $x=t^2-2$, $dx=2tdt$ より

$$\int x\sqrt{x+2} dx = \int (t^2-2) \cdot t \cdot 2t dt = \int (2t^4 - 4t^2) dt = \frac{2}{5} t^5 - \frac{4}{3} t^3 + C$$

$$= \frac{2}{15} t^3 (3t^2 - 10) + C = \frac{2}{15} (x+2)(3x-4)\sqrt{x+2} + C$$

(3) ① $e^x - 3 = t$ とおくと, $e^x dx = dt$ より

$$\int \frac{e^x}{(e^x - 3)^2} dx = \int \frac{1}{(e^x - 3)^2} \cdot e^x dx = \int \frac{1}{t^2} dt = \frac{1}{-2+1} t^{-2+1} + C = -\frac{1}{t} + C = -\frac{1}{e^x - 3} + C$$

② $\cos x = t$ とおくと, $-\sin x dx = dt$ より

$$\int \cos^2 x \sin x dx = -\int \cos^2 x \cdot (-\sin x) dx = -\int t^2 dt = -\frac{1}{3} t^3 + C = -\frac{1}{3} \cos^3 x + C$$

③ $x^3 + 2 = t$ とおくと, $3x^2 dx = dt$ より

$$\int \frac{3x^2}{\sqrt[3]{x^3 + 2}} dx = \int \frac{1}{\sqrt[3]{t}} dt = \int t^{-\frac{1}{3}} dt = \frac{1}{-\frac{1}{3}+1} t^{-\frac{1}{3}+1} + C = \frac{3}{2} \sqrt[3]{t^2} + C = \frac{3}{2} \sqrt[3]{(x^3 + 2)^2} + C$$

〈注意〉 $\sqrt[3]{x^3 + 2} = t$ とおいてもよい。(4) ① $x^3 + 2 = t$ とおくと, $3x^2 dx = dt$ より

$$\int \frac{3x^2}{x^3 + 2} dx = \int \frac{1}{t} dt = \log|t| + C = \log|x^3 + 2| + C$$

② $\frac{1}{\tan x} = \frac{\cos x}{\sin x}$ であり, $\sin x = t$ とおくと, $\cos x dx = dt$ より

$$\int \frac{1}{\tan x} dx = \int \frac{\cos x}{\sin x} dx = \int \frac{1}{t} dt = \log|t| + C = \log|\sin x| + C$$

3

(1) 次の不定積分を求めよ。

① $\int x \cos x dx$

② $\int x^2 \log x dx$

(2) 不定積分 $\int \frac{x^2}{e^x} dx$ を求めよ。**解答** C は積分定数とする。

$$(1) \quad \textcircled{1} \quad \int x \cos x dx = \int x \cdot (\sin x)' dx = x \sin x - \int (x)' \cdot \sin x dx = x \sin x - \int \sin x dx$$

$$= x \sin x + \cos x + C$$

$$\textcircled{2} \quad \int x^2 \log x dx = \int \log x \cdot \left(\frac{1}{3}x^3\right)' dx = \frac{1}{3}x^3 \log x - \int (\log x)' \cdot \frac{1}{3}x^3 dx = \frac{1}{3}x^3 \log x - \int \frac{1}{x} \cdot \frac{1}{3}x^3 dx$$

$$= \frac{1}{3}x^3 \log x - \frac{1}{3} \int x^2 dx = \frac{1}{3}x^3 \log x - \frac{1}{9}x^3 + C$$

$$(2) \quad \int \frac{x^2}{e^x} dx = \int x^2 \cdot e^{-x} dx = \int x^2 \cdot (-e^{-x})' dx = -x^2 e^{-x} - \int (x^2)' \cdot (-e^{-x}) dx = -\frac{x^2}{e^x} + \int 2x \cdot e^{-x} dx$$

$$= -\frac{x^2}{e^x} + \int 2x \cdot (-e^{-x})' dx = -\frac{x^2}{e^x} + \left\{ -2x \cdot e^{-x} - \int (2x)' \cdot (-e^{-x}) dx \right\}$$

$$= -\frac{x^2}{e^x} - \frac{2x}{e^x} + 2 \int e^{-x} dx = -\frac{x^2}{e^x} - \frac{2x}{e^x} - 2e^{-x} + C = -\frac{x^2 + 2x + 2}{e^x} + C$$

4

(1) 次の不定積分を求めよ。

① $\int \frac{x^2 + x}{x - 2} dx$

② $\int \frac{1}{x^2 + x} dx$

(2) 次の不定積分を求めよ。

① $\int \sin^2 x dx$

② $\int \cos^3 x dx$

③ $\int \cos^4 x dx$

④ $\int \cos 3x \cos x dx$

解答 C は積分定数とする。(1) ① $x^2 + x = (x - 2)(x + 3) + 6$ であるから

$$\int \frac{x^2 + x}{x - 2} dx = \int \frac{(x - 2)(x + 3) + 6}{x - 2} dx = \int \left(x + 3 + \frac{6}{x - 2} \right) dx$$

2	1	1	0
		2	6
		1	3
			6

$$= \frac{1}{2}x^2 + 3x + 6 \log |x - 2| + C$$

② $\frac{1}{x^2 + x} = \frac{1}{x(x + 1)}$ であるから, $\frac{1}{x(x + 1)} = \frac{a}{x} + \frac{b}{x + 1}$ が恒等式となる a, b の値を求める。

$$\text{(右辺)} = \frac{a(x + 1) + bx}{x(x + 1)} = \frac{(a + b)x + a}{x^2 + x} \quad \text{よって} \quad \begin{cases} a + b = 0 \\ a = 1 \end{cases}$$

$$\text{これを解いて } a = 1, b = -1 \quad \text{したがって} \quad \frac{1}{x^2 + x} = \frac{1}{x} - \frac{1}{x + 1}$$

$$\text{これから} \quad \int \frac{1}{x^2 + x} dx = \int \left(\frac{1}{x} - \frac{1}{x + 1} \right) dx = \log |x| - \log |x + 1| + C = \log \left| \frac{x}{x + 1} \right| + C$$

(2) ① $\cos 2x = 1 - 2 \sin^2 x$ であるから $\sin^2 x = \frac{1 - \cos 2x}{2}$

$$\text{よって} \quad \int \sin^2 x dx = \int \frac{1 - \cos 2x}{2} dx = \frac{1}{2}x - \frac{1}{4} \sin 2x + C$$

② $\cos^2 x = 1 - \sin^2 x$ より $\int \cos^3 x dx = \int (1 - \sin^2 x) \cos x dx$ ここで, $\sin x = t$ とおくと $\cos x dx = dt$ であるから

$$\int (1 - \sin^2 x) \cos x dx = \int (1 - t^2) dt = t - \frac{1}{3}t^3 + C = -\frac{1}{3} \sin^3 x + \sin x + C$$

$$\textcircled{3} \quad \cos^2 x = \frac{1 + \cos 2x}{2} \text{ であるから } \cos^4 x = (\cos^2 x)^2 = \left(\frac{1 + \cos 2x}{2}\right)^2 = \frac{1}{4}(1 + 2 \cos 2x + \cos^2 2x)$$

$$\begin{aligned} \cos^2 2x = \frac{1 + \cos 4x}{2} \text{ であるから } \cos^4 x &= \frac{1}{4} \left(1 + 2 \cos 2x + \frac{1 + \cos 4x}{2}\right) \\ &= \frac{1}{8}(3 + 4 \cos 2x + \cos 4x) \end{aligned}$$

$$\begin{aligned} \text{よって } \int \cos^4 x \, dx &= \frac{1}{8} \int (3 + 4 \cos 2x + \cos 4x) \, dx = \frac{1}{8} \left(3x + 2 \sin 2x + \frac{1}{4} \sin 4x\right) + C \\ &= \frac{3}{8}x + \frac{1}{4} \sin 2x + \frac{1}{32} \sin 4x + C \end{aligned}$$

$$\textcircled{4} \quad \text{三角関数の積和の公式 } \cos \alpha \cos \beta = \frac{1}{2} \{\cos(\alpha + \beta) + \cos(\alpha - \beta)\} \text{ より}$$

$$\begin{aligned} \int \cos 3x \cos x \, dx &= \frac{1}{2} \int \{\cos(3x + x) + \cos(3x - x)\} \, dx = \frac{1}{2} \int (\cos 4x + \cos 2x) \, dx \\ &= \frac{1}{8} \sin 4x + \frac{1}{4} \sin 2x + C \end{aligned}$$

5

(1) 次の定積分を求めよ。

$$\textcircled{1} \int_2^4 x^3 dx \quad \textcircled{2} \int_1^2 \frac{1}{\sqrt{x}} dx \quad \textcircled{3} \int_0^{\frac{\pi}{4}} \frac{1}{\cos^2 x} dx \quad \textcircled{4} \int_{-2}^0 e^x dx$$

(2) 次の定積分を求めよ。

$$\textcircled{1} \int_{-1}^2 \sqrt{|x|} dx \quad \textcircled{2} \int_2^3 \frac{x+3}{x^2-1} dx \quad \textcircled{3} \int_0^{\pi} \cos^2 x dx \quad \textcircled{4} \int_0^{\frac{\pi}{4}} \sin 4x \cos 3x dx$$

解答

$$(1) \textcircled{1} \int_2^4 x^3 dx = \left[\frac{1}{4} x^4 \right]_2^4 = \frac{1}{4} \cdot 4^4 - \frac{1}{4} \cdot 2^4 = 60$$

$$\textcircled{2} \int_1^2 \frac{1}{\sqrt{x}} dx = \int_1^2 x^{-\frac{1}{2}} dx = \left[\frac{1}{-\frac{1}{2}+1} x^{-\frac{1}{2}+1} \right]_1^2 = \left[2x^{\frac{1}{2}} \right]_1^2 = 2 \cdot 2^{\frac{1}{2}} - 2 \cdot 1^{\frac{1}{2}} = 2\sqrt{2} - 2$$

$$\textcircled{3} \int_0^{\frac{\pi}{4}} \frac{1}{\cos^2 x} dx = \left[\tan x \right]_0^{\frac{\pi}{4}} = 1 - 0 = 1$$

$$\textcircled{4} \int_{-2}^0 e^x dx = \left[e^x \right]_{-2}^0 = e^0 - e^{-2} = 1 - \frac{1}{e^2}$$

(2) ① $-1 \leq x \leq 0$ のとき, $x \leq 0$ であるから

$$\sqrt{|x|} = \sqrt{-x}$$

 $0 \leq x \leq 2$ のとき, $x \geq 0$ であるから

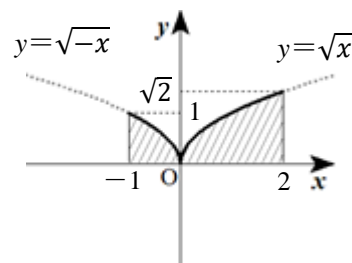
$$\sqrt{|x|} = \sqrt{x}$$

$$\text{よって} \int_{-1}^2 \sqrt{|x|} dx = \int_{-1}^0 \sqrt{-x} dx + \int_0^2 \sqrt{x} dx$$

$$= \int_{-1}^0 (-x)^{\frac{1}{2}} dx + \int_0^2 x^{\frac{1}{2}} dx$$

$$= \left[(-1) \cdot \frac{1}{\frac{1}{2}+1} (-x)^{\frac{1}{2}+1} \right]_{-1}^0 + \left[\frac{1}{\frac{1}{2}+1} x^{\frac{1}{2}+1} \right]_0^2 = - \left[\frac{2}{3} (-x)^{\frac{3}{2}} \right]_{-1}^0 + \left[\frac{2}{3} x^{\frac{3}{2}} \right]_0^2$$

$$= -0 + \frac{2}{3} \cdot 1^{\frac{3}{2}} + \frac{2}{3} \cdot 2^{\frac{3}{2}} - 0 = -\frac{2}{3} + \frac{4}{3} \sqrt{2} = \frac{2+4\sqrt{2}}{3}$$



② $\frac{x+3}{x^2-1} = \frac{a}{x+1} + \frac{b}{x-1}$ が恒等式となる a, b の値を求める。

$$(\text{右辺}) = \frac{a}{x+1} + \frac{b}{x-1} = \frac{a(x-1) + b(x+1)}{x^2-1} = \frac{(a+b)x - a + b}{x^2-1}$$

よって $\begin{cases} a+b=1 \\ -a+b=3 \end{cases}$ これを解いて $a = -1, b = 2$

したがって $\frac{x+3}{x^2-1} = \frac{2}{x-1} - \frac{1}{x+1}$

$$\begin{aligned} \text{これから } \int_2^3 \frac{x+3}{x^2-1} dx &= \int_2^3 \left(\frac{2}{x-1} - \frac{1}{x+1} \right) dx = \left[2\log|x-1| \right]_2^3 - \left[\log|x+1| \right]_2^3 \\ &= 2\log 2 - 0 - (\log 4 - \log 3) = \mathbf{\log 3} \end{aligned}$$

③ $\int_0^\pi \cos^2 x dx = \int_0^\pi \frac{1 + \cos 2x}{2} dx = \frac{1}{2} \left[x \right]_0^\pi + \frac{1}{2} \left[\frac{1}{2} \sin 2x \right]_0^\pi$

$$= \frac{1}{2}(\pi - 0) + \frac{1}{2}(0 - 0) = \frac{\pi}{2}$$

$$\cos 2x = 2\cos^2 x - 1 \text{ より}$$

$$\cos^2 x = \frac{1 + \cos 2x}{2}$$

④ $\int_0^{\frac{\pi}{4}} \sin 4x \cos 3x dx = \frac{1}{2} \int_0^{\frac{\pi}{4}} (\sin 7x + \sin x) dx$

$$\sin \alpha \cos \beta = \frac{1}{2} \{ \sin(\alpha + \beta) + \sin(\alpha - \beta) \}$$

$$= \frac{1}{2} \left[-\frac{1}{7} \cos 7x \right]_0^{\frac{\pi}{4}} + \frac{1}{2} \left[-\cos x \right]_0^{\frac{\pi}{4}}$$

$$= -\frac{1}{14} \left(\frac{1}{\sqrt{2}} - 1 \right) - \frac{1}{2} \left(\frac{1}{\sqrt{2}} - 1 \right) = -\frac{\sqrt{2}}{28} + \frac{1}{14} - \frac{\sqrt{2}}{4} + \frac{1}{2} = \frac{4 - 2\sqrt{2}}{7}$$

6

(1) 次の定積分を求めよ。

① $\int_{-3}^{-2} x(x+3)^4 dx$

② $\int_{-1}^2 \frac{x}{\sqrt{x+2}} dx$

(2) 次の定積分を求めよ。

① $\int_0^1 \sqrt{1-x^2} dx$

② $\int_0^{\sqrt{2}} \frac{1}{\sqrt{4-x^2}} dx$

(3) 定積分 $\int_0^{3\sqrt{3}} \frac{1}{x^2+9} dx$ を求めよ。

(4) 次の定積分を求めよ。

① $\int_{-\frac{\pi}{2}}^{\frac{\pi}{2}} x^3 \cos x dx$

② $\int_{-1}^1 x^2(x-1)^3 dx$

(5) 次の定積分を求めよ。

① $\int_1^e \log x dx$

② $\int_{-\pi}^{\pi} x^2 \cos x dx$

解答

(1) ① $x+3=t$ とおくと $x=t-3$, $dx=dt$ また, x と t の対応は右のようになる。

x	$-3 \rightarrow -2$
t	$0 \rightarrow 1$

$$\begin{aligned} \text{よって } \int_{-3}^{-2} x(x+3)^4 dx &= \int_0^1 (t-3)t^4 dt = \int_0^1 (t^5 - 3t^4) dt \\ &= \left[\frac{1}{5+1} t^{5+1} - 3 \cdot \frac{1}{4+1} t^{4+1} \right]_0^1 = \left[\frac{1}{6} t^6 - \frac{3}{5} t^5 \right]_0^1 \\ &= \left(\frac{1}{6} - \frac{3}{5} \right) - (0-0) = -\frac{13}{30} \end{aligned}$$

② $x+2=t$ とおくと $x=t-2$, $dx=dt$ また, x と t の対応は右のようになる。

x	$-1 \rightarrow 2$
t	$1 \rightarrow 4$

$$\begin{aligned} \text{よって } \int_{-1}^2 \frac{x}{\sqrt{x+2}} dx &= \int_1^4 \frac{t-2}{\sqrt{t}} dt = \int_1^4 \left(t^{\frac{1}{2}} - 2t^{-\frac{1}{2}} \right) dt \\ &= \left[\frac{1}{\frac{1}{2}+1} t^{\frac{1}{2}+1} - 2 \cdot \frac{1}{-\frac{1}{2}+1} t^{-\frac{1}{2}+1} \right]_1^4 = \left[\frac{2}{3} t^{\frac{3}{2}} - 4t^{\frac{1}{2}} \right]_1^4 \\ &= \left(\frac{2}{3} \cdot 4^{\frac{3}{2}} - 4 \cdot 4^{\frac{1}{2}} \right) - \left(\frac{2}{3} - 4 \right) = \frac{16}{3} - 8 - \frac{2}{3} + 4 = \frac{2}{3} \end{aligned}$$

〈注意〉 $\sqrt{x+2}=t$ とおいてもよい。

(2) ① $x = \sin\theta$ とおくと $dx = \cos\theta d\theta$

また、 x と θ の対応は右のようになる。

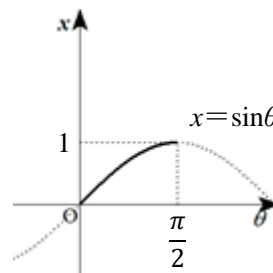
x	$0 \rightarrow 1$
θ	$0 \rightarrow \frac{\pi}{2}$

$0 \leq \theta \leq \frac{\pi}{2}$ のとき、 $\cos\theta \geq 0$ であるから

$$\sqrt{1-x^2} = \sqrt{1-\sin^2\theta} = |\cos\theta| = \cos\theta$$

$$\text{よって } \int_0^1 \sqrt{1-x^2} dx = \int_0^{\frac{\pi}{2}} \cos\theta \cdot \cos\theta d\theta = \int_0^{\frac{\pi}{2}} \cos^2\theta d\theta$$

$$= \int_0^{\frac{\pi}{2}} \frac{1+\cos 2\theta}{2} d\theta = \frac{1}{2} \left[\theta + \frac{1}{2} \sin 2\theta \right]_0^{\frac{\pi}{2}} = \frac{1}{2} \left(\frac{\pi}{2} + 0 \right) - \frac{1}{2} (0 + 0) = \frac{\pi}{4}$$



② $x = 2\sin\theta$ とおくと $dx = 2\cos\theta d\theta$

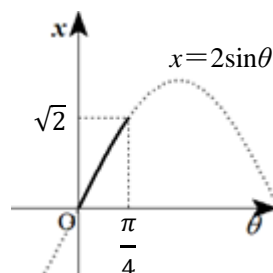
また、 x と θ の対応は右のようになる。

x	$0 \rightarrow \sqrt{2}$
θ	$0 \rightarrow \frac{\pi}{4}$

$0 \leq \theta \leq \frac{\pi}{4}$ のとき、 $\cos\theta \geq 0$ であるから

$$\sqrt{4-x^2} = \sqrt{4-4\sin^2\theta} = 2\sqrt{1-\sin^2\theta} = 2|\cos\theta| = 2\cos\theta$$

$$\text{よって } \int_0^{\sqrt{2}} \frac{1}{\sqrt{4-x^2}} dx = \int_0^{\frac{\pi}{4}} \frac{1}{2\cos\theta} \cdot 2\cos\theta d\theta = \int_0^{\frac{\pi}{4}} d\theta = \left[\theta \right]_0^{\frac{\pi}{4}} = \frac{\pi}{4}$$



(3) $x = 3\tan\theta$ とおくと $dx = \frac{3}{\cos^2\theta} d\theta$

また、 x と θ の対応は右のようになる。

x	$0 \rightarrow 3\sqrt{3}$
θ	$0 \rightarrow \frac{\pi}{3}$

$x^2 + 9 = 9\tan^2\theta + 9 = \frac{9}{\cos^2\theta}$ であるから

$$\int_0^{3\sqrt{3}} \frac{1}{x^2+9} dx = \int_0^{\frac{\pi}{3}} \frac{1}{\frac{9}{\cos^2\theta}} \cdot \frac{3}{\cos^2\theta} d\theta = \frac{1}{3} \int_0^{\frac{\pi}{3}} d\theta = \frac{1}{3} \left[\theta \right]_0^{\frac{\pi}{3}} = \frac{\pi}{9}$$



(4) ① $f(x) = x^3 \cos x$ は、 $f(-x) = (-x)^3 \cdot \cos(-x) = -x^3 \cos x = -f(x)$ であるから、奇関数である。

$$\text{よって } \int_{-\frac{\pi}{2}}^{\frac{\pi}{2}} x^3 \cos x dx = 0$$

② $x^2(x-1)^3 = x^2(x^3-3x^2+3x-1) = x^5-3x^4+3x^3-x^2$ であり、 x^5 、 $3x^3$ は奇関数、 $-3x^4$ 、 $-x^2$ は偶関数である。

$$\begin{aligned} \text{よって } \int_{-1}^1 x^2(x-1)^3 dx &= \int_{-1}^1 (x^5 - 3x^4 + 3x^3 - x^2) dx \\ &= \int_{-1}^1 x^5 dx - 3 \int_{-1}^1 x^4 dx + 3 \int_{-1}^1 x^3 dx - \int_{-1}^1 x^2 dx \\ &= 0 - 6 \int_0^1 x^4 dx + 0 - 2 \int_0^1 x^2 dx = -6 \left[\frac{1}{5} x^5 \right]_0^1 - 2 \left[\frac{1}{3} x^3 \right]_0^1 \\ &= -\frac{6}{5} - \frac{2}{3} = -\frac{28}{15} \end{aligned}$$

$$\begin{aligned}
 (5) \quad ① \quad \int_1^e \log x \, dx &= \int_1^e \log x \cdot (x)' \, dx = \left[x \log x \right]_1^e - \int_1^e (\log x)' \cdot x \, dx = e - 0 - \int_1^e dx \\
 &= e - \left[x \right]_1^e = e - (e - 1) = 1
 \end{aligned}$$

$$\begin{aligned}
 ② \quad \int_{-\pi}^{\pi} x^2 \cos x \, dx &= \int_{-\pi}^{\pi} x^2 \cdot (\sin x)' \, dx = \left[x^2 \sin x \right]_{-\pi}^{\pi} - \int_{-\pi}^{\pi} (x^2)' \cdot \sin x \, dx \\
 &= 0 - 2 \int_{-\pi}^{\pi} x \sin x \, dx = -2 \int_{-\pi}^{\pi} x \cdot (-\cos x)' \, dx \\
 &= 2 \left\{ \left[x \cos x \right]_{-\pi}^{\pi} - \int_{-\pi}^{\pi} (x)' \cdot \cos x \, dx \right\} = 2 \left\{ (-\pi - \pi) - \left[\sin x \right]_{-\pi}^{\pi} \right\} \\
 &= -4\pi - 0 = -4\pi
 \end{aligned}$$

〈注意〉 $(-x)^2 \cdot \cos(-x) = x^2 \cos x$ より, $x^2 \cos x$ は偶関数であるから,

$$\int_{-\pi}^{\pi} x^2 \cos x \, dx = 2 \int_0^{\pi} x^2 \cos x \, dx \text{としてもよい。}$$

7

(1) 次の関数を x で微分せよ。

① $y = \int_0^x \sin t \log(t^2 + 1) dt$

② $y = \int_{\frac{\pi}{2}}^x (x-t) \cos t dt$

(2) 等式 $f(x) = e^x + \int_0^1 t f(t) dt$ を満たす関数 $f(x)$ を求めよ。

解答

(1) ① $\frac{dy}{dx} = \frac{d}{dx} \int_0^x \sin t \log(t^2 + 1) dt = \mathbf{\sin x \log(x^2 + 1)}$

$$\begin{aligned} \text{② } \frac{dy}{dx} &= \frac{d}{dx} \int_{\frac{\pi}{2}}^x (x-t) \cos t dt = \frac{d}{dx} \int_{\frac{\pi}{2}}^x x \cos t dt - \frac{d}{dx} \int_{\frac{\pi}{2}}^x t \cos t dt = \frac{d}{dx} \left(x \int_{\frac{\pi}{2}}^x \cos t dt \right) - x \cos x \\ &= (x)' \int_{\frac{\pi}{2}}^x \cos t dt + x \cdot \frac{d}{dx} \int_{\frac{\pi}{2}}^x \cos t dt - x \cos x = \left[\sin t \right]_{\frac{\pi}{2}}^x + x \cdot \cos x - x \cos x = \mathbf{\sin x - 1} \end{aligned}$$

(2) $\int_0^1 t f(t) dt$ は定数であるから, $\int_0^1 t f(t) dt = k$ とおく。このとき, 関数 $f(x)$ は $f(x) = e^x + k$ と表せる。ここで, $f(t) = e^t + k$ であるから $\int_0^1 t f(t) dt = k$ の左辺に

$$\begin{aligned} \text{代入すると } \int_0^1 t f(t) dt &= \int_0^1 t(e^t + k) dt = \int_0^1 t e^t dt + k \int_0^1 t dt \\ &= \int_0^1 t(e^t)' dt + k \left[\frac{1}{2} t^2 \right]_0^1 = \left[t e^t \right]_0^1 - \int_0^1 (t)' e^t dt + k \left(\frac{1}{2} - 0 \right) \\ &= e - 0 - \left[e^t \right]_0^1 + \frac{1}{2} k = e - (e - 1) + \frac{1}{2} k = 1 + \frac{1}{2} k \end{aligned}$$

よって $1 + \frac{1}{2} k = k$ これを解いて $k = 2$ したがって $f(x) = e^x + 2$

8

次の極限值を求めよ。

$$(1) \lim_{n \rightarrow \infty} \sum_{k=1}^n \frac{1}{\sqrt{n(n+k)}}$$

$$(2) \lim_{n \rightarrow \infty} \left(\frac{2 \cdot 1}{n^2 + 1^2} + \frac{2 \cdot 2}{n^2 + 2^2} + \dots + \frac{2 \cdot n}{n^2 + n^2} \right)$$

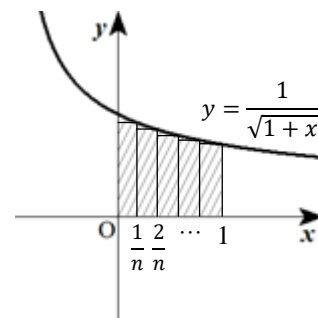
解答

$$(1) \lim_{n \rightarrow \infty} \sum_{k=1}^n \frac{1}{\sqrt{n(n+k)}} = \lim_{n \rightarrow \infty} \frac{1}{n} \sum_{k=1}^n \frac{1}{\sqrt{1 + \frac{k}{n}}}$$

ここで、 $f(x) = \frac{1}{\sqrt{1+x}}$ とおくと、

求める極限值は右の図の面積と見なせるので

$$\lim_{n \rightarrow \infty} \frac{1}{n} \sum_{k=1}^n f\left(\frac{k}{n}\right) = \int_0^1 \frac{1}{\sqrt{1+x}} dx = \left[\frac{1}{-\frac{1}{2}+1} (1+x)^{-\frac{1}{2}+1} \right]_0^1 = \left[2\sqrt{1+x} \right]_0^1 = 2\sqrt{2} - 2$$

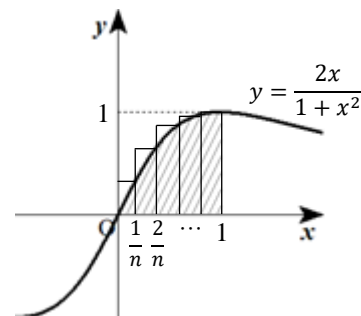


$$(2) \lim_{n \rightarrow \infty} \left(\frac{2 \cdot 1}{n^2 + 1^2} + \frac{2 \cdot 2}{n^2 + 2^2} + \dots + \frac{2 \cdot n}{n^2 + n^2} \right) = \lim_{n \rightarrow \infty} \sum_{k=1}^n \frac{2k}{n^2 + k^2} = \lim_{n \rightarrow \infty} \frac{1}{n} \sum_{k=1}^n \frac{2k}{n + \frac{k^2}{n}} = \lim_{n \rightarrow \infty} \frac{1}{n} \sum_{k=1}^n \frac{2 \cdot \frac{k}{n}}{1 + \left(\frac{k}{n}\right)^2}$$

ここで、 $f(x) = \frac{2x}{1+x^2}$ とおくと、

求める極限值は右の図の面積と見なせるので

$$\begin{aligned} \lim_{n \rightarrow \infty} \frac{1}{n} \sum_{k=1}^n f\left(\frac{k}{n}\right) &= \int_0^1 \frac{2x}{1+x^2} dx \\ &= \left[\log|1+x^2| \right]_0^1 = \log 2 \end{aligned}$$



9

$0 \leq x \leq 1$ のとき、 $x + 1 \leq (x + 1)^2$ を示せ。また、このことを利用して、 $\frac{1}{2} < \log 2$ を示せ。

証明

$0 \leq x \leq 1$ のとき、 $0 \leq x$ の両辺に 1 を加えると $1 \leq x + 1$

よって、 $1 \leq x + 1$ の両辺に $x + 1$ を掛けると $x + 1 \leq (x + 1)^2$

等号が成り立つのは $x = 0$ のときである。

このことから $\frac{1}{x + 1} \geq \frac{1}{(x + 1)^2}$

よって $\int_0^1 \frac{1}{x + 1} dx \geq \int_0^1 \frac{1}{(x + 1)^2} dx$

ここで、 $\frac{1}{x + 1} = \frac{1}{(x + 1)^2}$ となるのは $x = 0$ のときに限るので

つねに $\frac{1}{x + 1} = \frac{1}{(x + 1)^2}$ ではない。したがって $\int_0^1 \frac{1}{x + 1} dx > \int_0^1 \frac{1}{(x + 1)^2} dx$

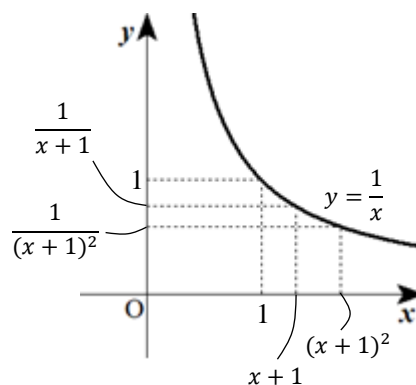
$\left[\int_0^1 \frac{1}{x + 1} dx \text{ の値を求める} \right]$

$$\int_0^1 \frac{1}{x + 1} dx = \left[\log |x + 1| \right]_0^1 = \log 2$$

$\left[\int_0^1 \frac{1}{(x + 1)^2} dx \text{ の値を求める} \right]$

$$\int_0^1 \frac{1}{(x + 1)^2} dx = \left[\frac{1}{-2 + 1} (x + 1)^{-2 + 1} \right]_0^1 = \left[-\frac{1}{x + 1} \right]_0^1 = -\frac{1}{2} - (-1) = \frac{1}{2}$$

以上から $\log 2 > \frac{1}{2}$ すなわち $\frac{1}{2} < \log 2$

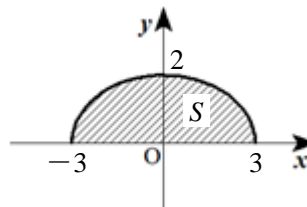


10

- (1) 2 曲線 $y = \sqrt{2-x^2}$ と $y = x^2$ で囲まれた図形の面積 S を求めよ。
 (2) 曲線 $x = \sqrt{y} + \frac{1}{\sqrt{y}}$ と y 軸, および 2 直線 $y = 1, y = 4$ で囲まれた図形の面積 S を求めよ。
 (3) 媒介変数 θ を用いて

$$x = 3\cos\theta, \quad y = 2\sin\theta \quad (0 \leq \theta \leq \pi)$$

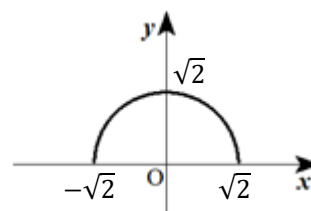
で表される曲線と x 軸で囲まれた 図形の面積 S を求めよ。



解答

- (1) 曲線 $y = \sqrt{2-x^2}$ の定義域は $2-x^2 \geq 0$ すなわち $-\sqrt{2} \leq x \leq \sqrt{2}$
 値域は $y \geq 0$ である。

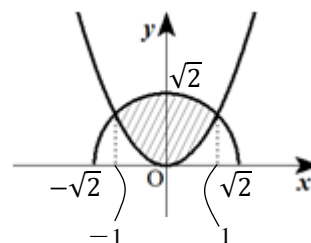
$y = \sqrt{2-x^2}$ の両辺を 2 乗して整理すると,
 $x^2 + y^2 = 2$ であるから, 曲線 $y = \sqrt{2-x^2}$ の概形は右のようになる。



また, 2 曲線の交点の x 座標は

$$\begin{aligned} \sqrt{2-x^2} = x^2 & \quad 2-x^2 = x^4 & \quad x^4 + x^2 - 2 = 0 \\ (x^2+2)(x^2-1) = 0 & \quad (x^2+2)(x-1)(x+1) = 0 & \quad x = -1, 1 \end{aligned}$$

よって, 2 曲線で囲まれた図形は右の図のようになる。



$-1 \leq x \leq 1$ のとき $\sqrt{2-x^2} \geq x^2$ であるから,
 求める面積 S は

$$S = \int_{-1}^1 (\sqrt{2-x^2} - x^2) dx = 2 \int_0^1 \sqrt{2-x^2} dx - 2 \int_0^1 x^2 dx$$

ここで, $x = \sqrt{2}\sin\theta$ とおくと $dx = \sqrt{2}\cos\theta d\theta$

また, x と θ の対応は右のようになる。

x	$0 \rightarrow 1$
θ	$0 \rightarrow \frac{\pi}{4}$

$0 \leq \theta \leq \frac{\pi}{4}$ のとき, $\cos\theta \geq 0$ であるから

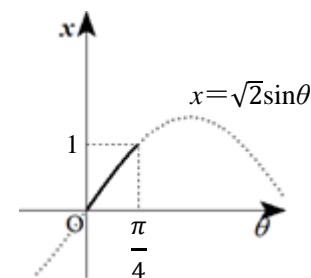
$$\sqrt{2-x^2} = \sqrt{2-2\sin^2\theta} = \sqrt{2}|\cos\theta| = \sqrt{2}\cos\theta$$

$$\text{よって } 2 \int_0^1 \sqrt{2-x^2} dx - 2 \int_0^1 x^2 dx$$

$$= 2 \int_0^{\frac{\pi}{4}} \sqrt{2}\cos\theta \cdot \sqrt{2}\cos\theta d\theta - 2 \left[\frac{1}{3}x^3 \right]_0^1$$

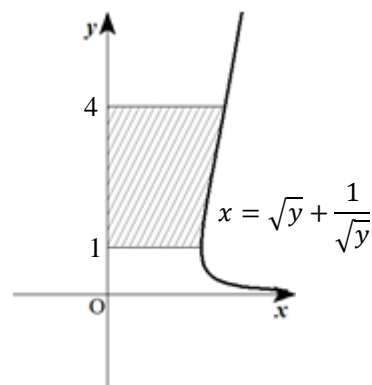
$$= 4 \int_0^{\frac{\pi}{4}} \frac{1 + \cos 2\theta}{2} d\theta - \frac{2}{3} = 2 \left[\theta + \frac{1}{2}\sin 2\theta \right]_0^{\frac{\pi}{4}} - \frac{2}{3}$$

$$= 2 \left(\frac{\pi}{4} + \frac{1}{2} \right) - 0 - \frac{2}{3} = \frac{\pi}{2} + \frac{1}{3}$$



(2) $1 \leq y \leq 4$ において、つねに $x \geq 0$ であるから、求める面積 S は

$$\begin{aligned} S &= \int_1^4 \left(\sqrt{y} + \frac{1}{\sqrt{y}} \right) dy = \left[\frac{1}{\frac{1}{2}+1} y^{\frac{1}{2}+1} + \frac{1}{-\frac{1}{2}+1} y^{-\frac{1}{2}+1} \right]_1^4 \\ &= \left[\frac{2}{3} y\sqrt{y} + 2\sqrt{y} \right]_1^4 = \frac{2}{3} \cdot 4 \cdot 2 + 2 \cdot 2 - \left(\frac{2}{3} + 2 \right) \\ &= \frac{20}{3} \end{aligned}$$



(3) 図より、求める面積 S は $S = \int_{-3}^3 y dx$ であり、

$0 \leq \theta \leq \pi$ において、 x と θ の対応は右のようになる。

また、 $y=2\sin\theta$, $dx=-3\sin\theta d\theta$ であるから

$$\begin{aligned} S &= \int_{-3}^3 y dx = \int_{\pi}^0 2 \sin \theta \cdot (-3 \sin \theta) d\theta \\ &= 6 \int_0^{\pi} \sin^2 \theta d\theta = 6 \int_0^{\pi} \frac{1 - \cos 2\theta}{2} d\theta = 3 \left[\theta - \frac{1}{2} \sin 2\theta \right]_0^{\pi} \\ &= 3(\pi - 0) = 3\pi \end{aligned}$$

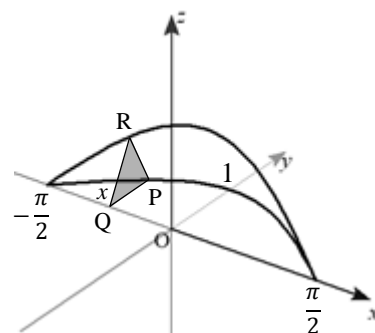
x	$-3 \rightarrow 3$
θ	$\pi \rightarrow 0$

11

(1) xy 平面に曲線 $y = \cos x$ ($-\frac{\pi}{2} \leq x \leq \frac{\pi}{2}$)があり、この曲線上の

点 $P(x, \cos x)$ から x 軸に垂線 PQ を引く。ここで、線分 PQ を1辺とする正三角形 PQR となるように、 z 座標が正となる点 R を x 軸に垂直な平面上にとる。

点 Q が x 軸上を点 $(-\frac{\pi}{2}, 0)$ から点 $(\frac{\pi}{2}, 0)$ まで動くとき、この正三角形が通過してできる立体の体積 V を求めよ。



(2) 次の図形を x 軸のまわりに1回転してできる立体の体積 V を求めよ。

- ① 曲線 $y=2-e^x$ と x 軸、および y 軸で囲まれた図形
- ② 曲線 $y=\sqrt{x}$ と直線 $y=x$ で囲まれた図形

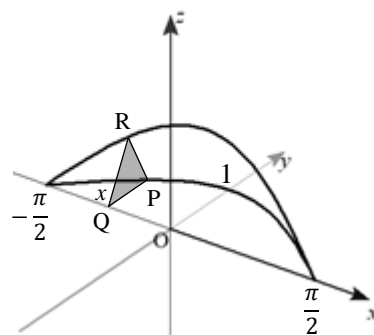
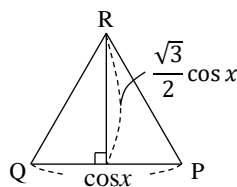
解答

(1) 正三角形 PQR の面積を $S(x)$ とすると

$$S(x) = \frac{1}{2} \cdot \cos x \cdot \frac{\sqrt{3}}{2} \cos x = \frac{\sqrt{3}}{4} \cos^2 x$$

よって、求める立体の体積 V は

$$\begin{aligned} V &= \int_{-\frac{\pi}{2}}^{\frac{\pi}{2}} S(x) dx = \int_{-\frac{\pi}{2}}^{\frac{\pi}{2}} \frac{\sqrt{3}}{4} \cos^2 x dx \\ &= \frac{\sqrt{3}}{4} \int_{-\frac{\pi}{2}}^{\frac{\pi}{2}} \frac{1 + \cos 2x}{2} dx \\ &= \frac{\sqrt{3}}{8} \left[x + \frac{1}{2} \sin 2x \right]_{-\frac{\pi}{2}}^{\frac{\pi}{2}} = \frac{\sqrt{3}}{8} \left\{ \frac{\pi}{2} - \left(-\frac{\pi}{2} \right) \right\} = \frac{\sqrt{3}}{8} \pi \end{aligned}$$



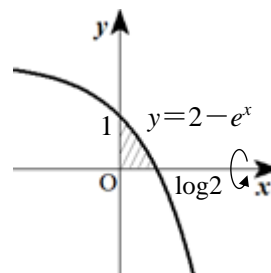
(2) ① 曲線 $y=2-e^x$ と x 軸の交点の x 座標は

$$2 - e^x = 0 \quad e^x = 2$$

両辺の自然対数をとると $x = \log 2$

よって、求める立体の体積 V は

$$\begin{aligned} V &= \pi \int_0^{\log 2} y^2 dx = \pi \int_0^{\log 2} (2 - e^x)^2 dx \\ &= \pi \int_0^{\log 2} (4 - 4e^x + e^{2x}) dx \\ &= \pi \left[4x - 4e^x + \frac{1}{2} e^{2x} \right]_0^{\log 2} \\ &= \pi \left\{ \left(4 \log 2 - 4e^{\log 2} + \frac{1}{2} e^{2 \log 2} \right) - \left(0 - 4 + \frac{1}{2} \right) \right\} \\ &= \pi \left\{ \left(4 \log 2 - 4 \cdot 2 + \frac{1}{2} \cdot 2^2 \right) + \frac{7}{2} \right\} = \left(4 \log 2 - \frac{5}{2} \right) \pi \end{aligned}$$



$e^{\log 2} = X$ とにおいて、
両辺の自然対数をとると
 $\log 2 = \log X$
よって $X = 2$

② 曲線 $y=\sqrt{x}$ と直線 $y=x$ の交点の x 座標は

$$\sqrt{x} = x \quad \text{両辺を 2 乗すると} \quad x=x^2$$

$$x^2-x=0 \quad x(x-1)=0$$

定義域は $x \geq 0$ であるから $x=0, 1$

求める立体の体積 V は曲線 $y = \sqrt{x}$ と x 軸,

および直線 $x=1$ で囲まれた図形を x 軸のまわりに

1 回転してできる回転体 V_1 から, 直線 $y=x$ と x 軸,

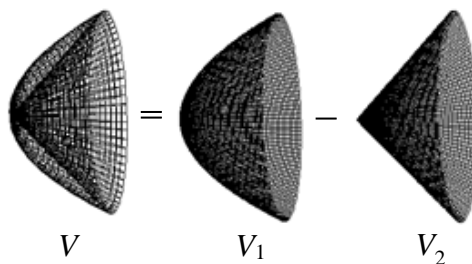
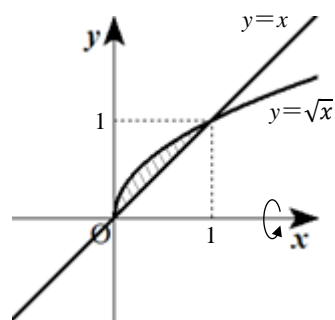
および直線 $x=1$ で囲まれた図形を x 軸のまわりに

1 回転してできる回転体 V_2 を引いたものであるから

$$V = V_1 - V_2 = \pi \int_0^1 (\sqrt{x})^2 dx - \pi \int_0^1 x^2 dx$$

$$= \pi \int_0^1 (x - x^2) dx = \pi \left[\frac{1}{2}x^2 - \frac{1}{3}x^3 \right]_0^1$$

$$= \pi \left(\frac{1}{2} - \frac{1}{3} \right) = \frac{1}{6}\pi$$



12

次の曲線の長さ L を求めよ。

(1) サイクロイド $x = \theta - \sin \theta$, $y = 1 - \cos \theta$ ($0 \leq \theta \leq 2\pi$)

(2) 曲線 $y = \frac{1}{3}(x-3)\sqrt{x}$ ($1 \leq x \leq 4$)

解答

(1) $\frac{dx}{d\theta} = 1 - \cos \theta$, $\frac{dy}{d\theta} = \sin \theta$ であるから

$$\begin{aligned} \sqrt{\left(\frac{dx}{d\theta}\right)^2 + \left(\frac{dy}{d\theta}\right)^2} &= \sqrt{(1 - \cos \theta)^2 + (\sin \theta)^2} = \sqrt{1 - 2\cos \theta + \cos^2 \theta + \sin^2 \theta} \\ &= \sqrt{2(1 - \cos \theta)} \end{aligned}$$

$$1 - \cos \theta = 2 \cdot \frac{1 - \cos \theta}{2} = 2 \cdot \sin^2 \frac{\theta}{2} \text{ であり, } 0 \leq \theta \leq 2\pi \text{ のとき } \sin \frac{\theta}{2} \geq 0 \text{ であるから}$$

$$\sqrt{2(1 - \cos \theta)} = \sqrt{2 \cdot 2 \cdot \sin^2 \frac{\theta}{2}} = 2 \sin \frac{\theta}{2}$$

$$\text{したがって } L = \int_0^{2\pi} 2 \sin \frac{\theta}{2} d\theta = 2 \left[-2 \cos \frac{\theta}{2} \right]_0^{2\pi} = -4(-1 - 1) = 8$$

(2) $\frac{dy}{dx} = \frac{1}{3}\sqrt{x} + \frac{1}{3}(x-3) \cdot \frac{1}{2}x^{-\frac{1}{2}} = \frac{2x + (x-3)}{6\sqrt{x}} = \frac{x-1}{2\sqrt{x}}$ であるから

$$L = \int_1^4 \sqrt{1 + \left(\frac{x-1}{2\sqrt{x}}\right)^2} dx = \int_1^4 \sqrt{1 + \frac{x^2 - 2x + 1}{4x}} dx = \int_1^4 \sqrt{\frac{x^2 + 2x + 1}{4x}} dx = \int_1^4 \frac{x+1}{2\sqrt{x}} dx$$

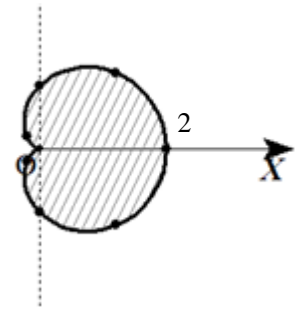
$$= \int_1^4 \left(\frac{1}{2}x^{\frac{1}{2}} + \frac{1}{2}x^{-\frac{1}{2}} \right) dx = \frac{1}{2} \left[\frac{1}{\frac{1}{2}+1} x^{\frac{1}{2}+1} + \frac{1}{-\frac{1}{2}+1} x^{-\frac{1}{2}+1} \right]_1^4 = \frac{1}{2} \left[\frac{2}{3}x^{\frac{3}{2}} + 2x^{\frac{1}{2}} \right]_1^4$$

$$= \frac{1}{2} \left\{ \left(\frac{2}{3} \cdot 8 + 2 \cdot 2 \right) - \left(\frac{2}{3} + 2 \right) \right\} = \frac{10}{3}$$

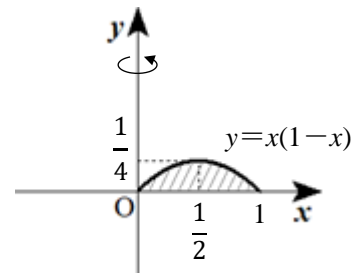
研究

- (1) 極方程式 $r = 1 + \cos \theta$ ($0 \leq \theta \leq 2\pi$) で表される曲線上の点と極 O を結んだ線分が通過する領域の面積 S を求めよ。

θ	0	$\frac{\pi}{4}$	$\frac{\pi}{2}$	$\frac{3}{4}\pi$	π	$\frac{5}{4}\pi$	$\frac{3}{2}\pi$	$\frac{7}{4}\pi$
r	2	$\frac{2+\sqrt{2}}{2}$	1	$\frac{2-\sqrt{2}}{2}$	0	$\frac{2-\sqrt{2}}{2}$	1	$\frac{2+\sqrt{2}}{2}$



- (2) 放物線 $y = x(1-x)$ と x 軸で囲まれた図形を y 軸のまわりに 1 回転してできる立体の体積 V を求めよ。



解答

- (1)
$$S = \frac{1}{2} \int_0^{2\pi} r^2 d\theta = \frac{1}{2} \int_0^{2\pi} (1 + \cos \theta)^2 d\theta = \frac{1}{2} \int_0^{2\pi} (1 + 2 \cos \theta + \cos^2 \theta) d\theta$$

$$= \frac{1}{2} \int_0^{2\pi} \left(1 + 2 \cos \theta + \frac{1 + \cos 2\theta}{2} \right) d\theta = \frac{1}{4} \left[3\theta + 4 \sin \theta + \frac{1}{2} \sin 2\theta \right]_0^{2\pi} = \frac{1}{4} (6\pi - 0) = \frac{3}{2} \pi$$
- (2)
$$V = 2\pi \int_0^1 x \cdot x(1-x) dx = 2\pi \int_0^1 (x^2 - x^3) dx = 2\pi \left[\frac{1}{3} x^3 - \frac{1}{4} x^4 \right]_0^1 = 2\pi \left(\frac{1}{3} - \frac{1}{4} \right) = \frac{\pi}{6}$$